



(1) 容 器 裡 有 多 少 水 ?




() 毫 升

(2) 容 器 裡 有 多 少 水 ?




() 毫 升


(3) 畫 出 470 毫 升 的 水 量。



(4) 畫 出 160 毫 升 的 水 量。




(5) 容 器 中 有 多 少 液 體 ?




() 毫 升

(6) 容 器 中 有 多 少 液 體 ?



() 毫 升

(7) 畫 出 400 毫 升 的 水 量。



(8) 畫 出 650 毫 升 的 水 量。

