




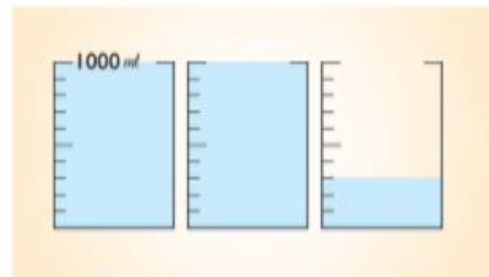
3 下面容器的容量各是多少？

1



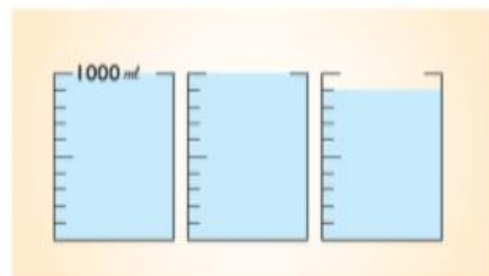
( 1 ) 公升 ( 700 ) 毫升，也就是 ( ) 毫升。

2



( 2 ) 公升 ( 300 ) 毫升，也就是 ( ) 毫升。

3



( 2 ) 公升 ( 900 ) 毫升，也就是 ( 2900 ) 毫升。



4 找找看看，家裡有什麼容器的容量比1公升多？請寫出2種來。

(本題依實際情況作答)

### 活動3 認識 0.1 公升




1 填填看看。

- 1 公升 = ( 1000 ) 毫升
- 100 毫升 = ( 0.1 ) 公升
- 0.5 公升 = ( 500 ) 毫升
- 800 毫升 = ( 0.8 ) 公升



2 量杯中 的水量是多少公升？用小數表示。

1



( 0.9 ) 公升

2



( 1.6 ) 公升



3 比比看看，在  裡填入 >、< 或 =。

- 1 公升  0.9 公升
- 1.8 公升  2 公升
- 0.8 公升  800 毫升
- 0.7 公升  790 毫升