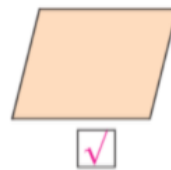
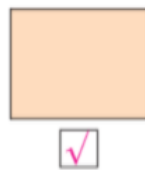
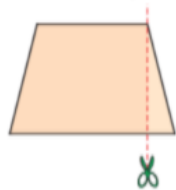




# 練習百分百



1 拿出附件，先剪開再拼拼看。左圖可以拼成右邊的圖形嗎？在□裡打√。



附件

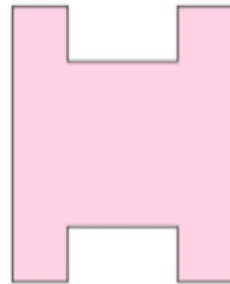


2 用1平方公分板量量看，下面圖形的面積各是多少？

(1)



(2)



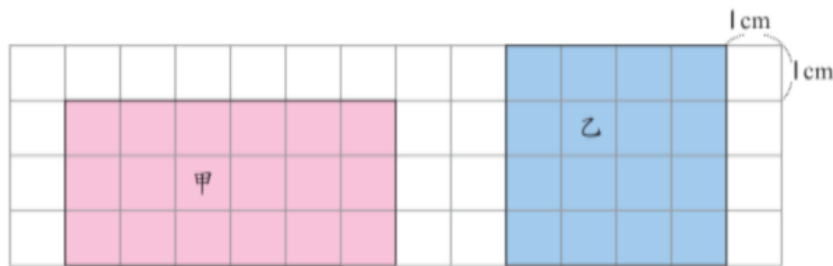
( 7 ) 平方公分

( 16 ) 平方公分



3 下面圖形的面積各是幾平方公分？

類似題



甲：( 18 ) 平方公分

乙：( 16 ) 平方公分

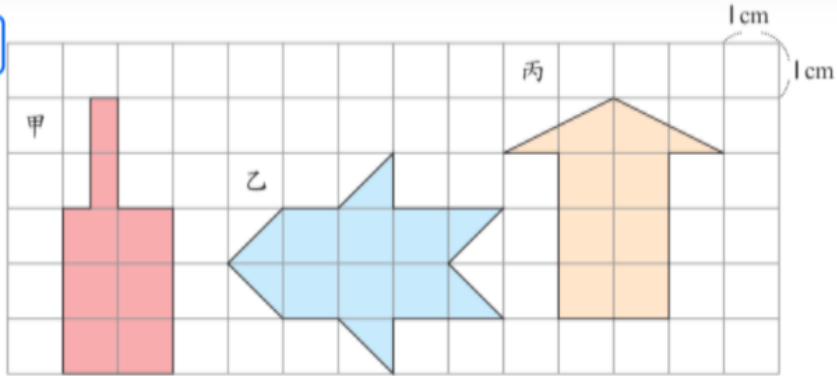


安和國小疫情防疫群組

林平全：@陳怡仲 411-21號，學號 106379 的帳號似乎未開通

4 下面圖形的面積各是幾平方公分？


類似題



- 甲：( 7 ) 平方公分
- 乙：( 9 ) 平方公分
- 丙：( 8 ) 平方公分

類似題

5 在下面方格紙上塗出兩個面積都是 14 平方公分，但周長不一樣長的圖形。



- (1) 第一個圖形的周長是 ( 16 ) 公分。
- (2) 第二個圖形的周長是 ( 18 ) 公分。

單元挑戰題