



2 可以一把問題題列成哪一個算式？在 裡打 \checkmark ，再算出答案來。

1 媽媽給姐姐 165 元，也給弟弟一些錢，姐姐的錢是弟弟的 3 倍，媽媽給弟弟幾元？

解題影片

$() \div 165 = 3$

$165 \times 3 = ()$

$() \div 3 = 165$

$165 \div () = 3$

答：媽媽給弟弟 (55) 元

2 郝亭有 252 顆糖果，在每個盤子裡放相同數量的糖果，一共可以裝成 7 盤，每個盤子裡有幾顆糖果？

$252 \times () = 7$

$252 \div () = 7$

$$252 \div 7 = 36$$

$() \div 7 = 252$

$() \div 252 = 7$

答：每個盤子裡有 (36) 顆糖果

3 有一條彩帶，每 12 公分剪成一段，共剪成 8 段，還剩下 5 公分，這條彩帶全長幾公分？

$() \div 5 = 12 \cdots 8$

$() \div 8 = 5 \cdots 12$

$() \div 12 = 8 \cdots 5$

$() \div 12 = 5 \cdots 8$

$$12 \times 8 = 96$$

$$96 + 5 = 101 \quad \text{答：這條彩帶全長 (101) 公分}$$

104 綜合挑戰



橡皮擦



畫筆



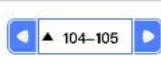
螢光筆



全部清除




選取



104-105



目錄



四角放大



局部放大



100%

原尺寸





基礎練習

活動1 認識毫升(毫公升)



1 填填看看。

- 1 1 毫公升簡稱為 1 (毫升)。
- 2 「毫升」用英文記作 (ml)。
- 3 3 個 1 毫升合起來是 (3) 毫升。
- 4 6 毫升是 (6) 個 1 毫升合起來的。



2 看看圖填填看看，容器中有多少液體？

1



(700) 毫升

2



(300) 毫升




3 飲料罐裡裝了多少毫升的液體？

1



(600) 毫升

2



(220) 毫升

