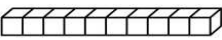



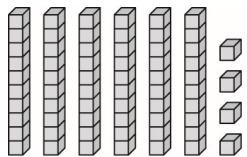


科目	數學	年級	年 班	座號	姓名
----	----	----	-----	----	----


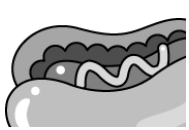


一、填填看：(1-8 每格 1 分)

- 8 條 、3 個  合起來和 () 個  一樣多。
- () 個十和 () 個一合起來是 49。
- 全部的積木和幾個  一樣多？記在位值表上：



十位	
個位	

- 一盒彩色筆賣 80 元，
 - 全部用 10 元來付，需要 () 個 10 元
 - 全部用 5 元來付，需要 () 個 5 元
 - 全部用 1 元付，需要 () 個 1 元
- 媽媽有 10 個 10 元，想買一個 36 元的麵包，請問最少要付給店員 () 個 10 元，店員又要找 () 元給媽媽。
- 先算算看是多少元，比較貴的在 中打 \checkmark ：

	
	
() 元	() 元

- 如果下面的日曆是今天的日曆，請看圖回答問題：



- 今天是 () 月 () 日星期 ()
 - 昨天是 () 月 () 日星期 ()
 - 明天是 () 月 () 日星期 ()
- $72 \rightarrow 71 \rightarrow () \rightarrow () \rightarrow 68$
 - $25 \rightarrow () \rightarrow () \rightarrow 40 \rightarrow 45$

9. 看月曆回答問題：(每格 2 分)

民國 110 年 10 月 2021

日	一	二	三	四	五	六
					1	2
3	4	5	6	7	8	9
10 國慶日	11	12	13	14	15	16
17	18	19	20	21	22	23
24	25	26	27	28	29	30
31						




- 國慶日是 10 月 10 日星期 ()，小宏 的生日是 10 月 16 日，請問 小宏 的生日和國慶日，哪一天先到？圈 圈看。
(小宏 生日，國慶日)
- 10 月的第一天是 10 月 () 日星期 ()。
- 10 月的最後一天是 10 月 () 日星期 ()。
- 小宏 的爸爸決定 10 月的第三個星期六要帶全家去露營，請問 10 月的第三個星期六是 10 月 () 日。
- 小宏 每星期三都必須上游泳課，小宏 10 月共上游泳課 () 次。
- 10 月第四個星期五，小宏 要回外婆家，那天是 10 月 () 日。



10. 請把下面今年節日按照時間的先後順序

序，填入 1~4 的數字：(8%)








- () 1. 中秋節 9 月 21 日
- () 2. 兒童節 4 月 4 日
- () 3. 雙十節 10 月 10 日
- () 4. 教師節 9 月 28 日

二、畫畫看：（每題 3 分）

用 10 表示 ，用 5 表示 ，
用 1 表示 ，畫畫看看，要怎麼付才剛好？

 <div style="border: 1px solid black; padding: 5px; width: fit-content; margin: 10px auto;">58 元</div>	
 <div style="border: 1px solid black; padding: 5px; width: fit-content; margin: 10px auto;">86 元</div>	

三、圈圈看：（6%）

- 圈出最小的數。
  
- 圈出最大的數。
  
- 圈出十位數字是 5 的數。
  
- 圈出比 66 小，比 48 大的數。
    
- 小明和小香排隊進遊樂場，小明排在第 18 個，小香排在第 23 個，誰先進去？
 （ 小明 ， 小香 ）

四、算算看：（每題 3 分）

(1) $6 + 23 = (\quad)$	(2) $37 + 28 = (\quad)$
(3) $70 - 33 = (\quad)$	(4) $49 - 40 = (\quad)$

五、寫出做法和答案：（每題 5 分）

- 教室有男生 13 人，女生 18 人，請問男生比女生少幾個人？
算式：

答：（ ）個人

- 老師買了一箱飲料請 28 位小朋友喝，每人拿 1 瓶，箱子裡還剩下 6 瓶，請問一箱飲料共有幾瓶？
算式：

答：（ ）瓶

- 桌上有紅色的珠子 25 顆，藍色的珠子 14 顆，請問桌上共有幾顆珠子？
算式：

答：（ ）顆珠子

- 哥哥今年 26 歲，弟弟比哥哥少 9 歲，請問弟弟有幾歲？
算式：

答：（ ）歲

- 洋洋買了一本筆記本 33 元，付了 4 個 10 元，要找回多少元？（本題 4 分）
算式：

答：（ ）元

