

一 填填看看。(每格3分,共30分)




- 今天是我國 110 年的 12 月 31 日,明天就是我國 ( ) 年 ( ) 月 ( ) 日。
- 連續 ( ) 天就是一個星期。
- 每一年的第三個月是 ( ) 月,第四個月是 ( ) 月。
- 爸爸的會員卡再過 14 個月就到期,14 個月也可以說是 ( ) 年 ( ) 個月。
- 隔壁的沈姐姐到英國遊學了 1 年 3 個月,也可以說是 ( ) 個月。
- 冬冬的貓咪已經 1 歲 9 個月大,也可以說是 ( ) 個月大。

二 看看月曆填填看看。(每格3分,共18分)

4月							5月						
日	一	二	三	四	五	六	日	一	二	三	四	五	六
				1	2	3							1
4	5	6	7	8	9	10	2	3	4	5	6	7	8
11	12	13	14	15	16	17	9	10	11	12	13	14	15
18	19	20	21	22	23	24	16	17	18	19	20	21	22
25	26	27	28	29	30		23	24	25	26	27	28	29
							30	31					

- 4 月有 ( ) 個星期又 ( ) 天,5 月有 ( ) 個星期又 ( ) 天。
- 冬冬從 4 月 29 日到 5 月 5 日要進行游泳訓練,一共有 ( ) 天,是 1 個星期嗎? ( )

三 今天是我 1 月 28 日,曉婷買了 3 盒餅乾,哪一盒餅乾的保存期限最先到?依照順序填入 1~3。(每題4分,共12分)

<p>1.</p> <div style="border: 1px solid black; border-radius: 10px; padding: 5px; width: fit-content; margin: 0 auto;">有效日期 8月3日</div>  <p>( )</p>	<p>2.</p> <div style="border: 1px solid black; border-radius: 10px; padding: 5px; width: fit-content; margin: 0 auto;">有效日期 4月30日</div>  <p>( )</p>	<p>3.</p> <div style="border: 1px solid black; border-radius: 10px; padding: 5px; width: fit-content; margin: 0 auto;">有效日期 5月18日</div>  <p>( )</p>
--	--	--

四 看看月曆回答問題。(每答4分,共24分)

民國 110 年 8 月						
日	一	二	三	四	五	六
1	2	3	4	5	6	7
8	9	10	11	12	13	14
15	16	17	18	19	20	21
22	23	24	25	26	27	28
29	30	31				

- 8 月有 ( ) 天,這個月是 ( 大月, 小月 )。
- 偶像團體從 8 月 26 日到 8 月 29 日在大巨蛋舉行演唱會,演唱會共舉行了 ( ) 天。
- 書展從 8 月 4 日開始,展出 12 天,在 ( ) 月 ( ) 日結束。
- 今天是 8 月 11 日,小娟的暑假到 8 月 29 日結束,小娟的暑假包含今天,還有 ( ) 天。

五 先圈圈看看,再填填看看。

(每題8分,共16分)

- 姐姐從 8 月 25 日開始織圍巾,織了 9 天才完成,圍巾是 ( ) 月 ( ) 日完成的。

8月							9月						
日	一	二	三	四	五	六	日	一	二	三	四	五	六
1	2	3	4	5	6	7				1	2	3	4
8	9	10	11	12	13	14	5	6	7	8	9	10	11
15	16	17	18	19	20	21	12	13	14	15	16	17	18
22	23	24	25	26	27	28	19	20	21	22	23	24	25
29	30	31					26	27	28	29	30		

- 文化公園舉辦 1 個星期的音樂會,在 11 月 24 日結束。音樂會是從 ( ) 月 ( ) 日開始。

11月						
日	一	二	三	四	五	六
	1	2	3	4	5	6
7	8	9	10	11	12	13
14	15	16	17	18	19	20
21	22	23	24	25	26	27
28	29	30				