


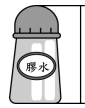
一 生活中，下面哪一些物品比1公尺長？請打 \checkmark 。(每題2分，共12分)

1. 大貨車



(\checkmark)

2. 膠水



()

3. 床



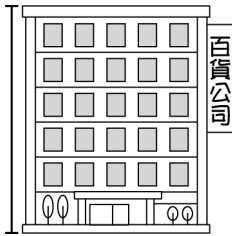
(\checkmark)

4. 優酪乳



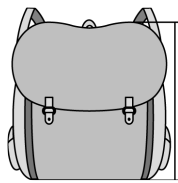
()

5. 大樓



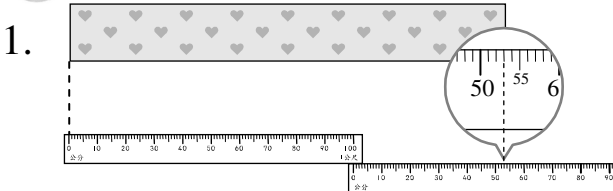
(\checkmark)

6. 書包




()

二 填填看看。(每格3分，共48分)



緞帶的長度是 (1) 公尺
(53) 公分，也可以說是
(153) 公分。



腳踏車的長度是 (1) 公尺
(68) 公分，也可以說是
(168) 公分。

3. 班級書櫃的長和3條1公尺的繩子接起來一樣長，是 (3) 公尺。

4. 籃球場場地的長和28條1公尺的繩子接起來一樣長，是 (28) 公尺。

5. 7公尺 = (700) 公分

6. 6公尺 8公分 = (608) 公分

7. 570公分 = (5) 公尺 (70) 公分

8. 289公分 = (2) 公尺 (89) 公分

9. 4公尺 32公分 = (432) 公分

10. 7公尺 20公分 = (720) 公分

三 圈出適當的單位。(每題4分，共16分)

1. 一枝鉛筆長18 (公尺, 公分)。

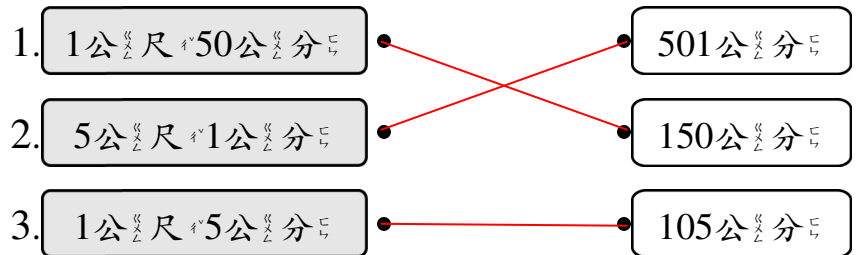
2. 籃球框高3 (公尺, 公分)。

3. 桌子高95 (公尺, 公分)。

4. 布告欄長3 (公尺, 公分)。


四 把長度一樣長的連起來。

(每條連線2分，共6分)



五 做做看看。(每答3分，共18分)

1. 看看圖圈圈看看。



(1) (機車, 汽車) 的車身比較長。

(2) (公車, 汽車) 的車身比較長。

(3) 機車和公車，哪個比較長？
(機車, 公車) 的車身比較長。

2. 公園的椰子樹比梯子高，梯子比榕樹高，椰子樹和榕樹，哪一棵樹比較高？

(椰子樹, 榕樹) 比較高。

3. 婷婷一叔大約長10公分，教室窗戶長度和婷婷6叔一樣長，教室窗戶長度大約長 (60) 公分；海報長度和婷婷9叔一樣長，海報長度大約長 (90) 公分。