


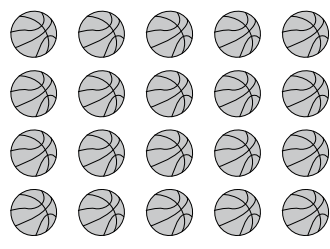
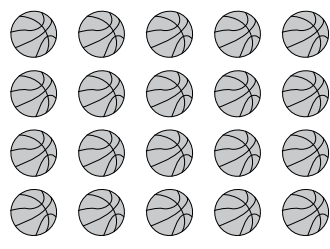
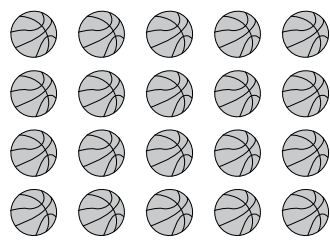
一、選出正確的答：每題 2 分，共 10 分

- (3) 100 公分等於 (1) 100 公尺 (2) 10 公尺 (3) 1 公尺。
- (3) 5 公尺等於 (1) 5 公分 (2) 50 公分 (3) 500 公分。
- (1) 弟弟今年 6 歲，爸爸的年齡是弟弟年齡的 5 倍再多加 4 歲，爸爸今年是 (1) 34 歲 (2) 29 歲 (3) 26 歲。
- (2) 有 15 個布丁，每 3 個裝一盒，可以裝成幾盒？ (1) 4 盒 (2) 5 盒 (3) 6 盒。
- (1) 下面哪一個敘述能表示  的塗色部分？ (1)  $\frac{1}{2}$  張色紙 (2)  $\frac{1}{4}$  張色紙 (3) 1 張色紙。

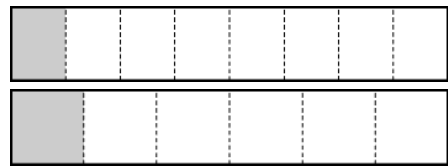
二、填填看：每格 3 分，共 24 分

- 傑克的叔叔長 10 公分，櫃子的長邊和傑克的叔叔一樣長，櫃子的長邊是 (50) 公分。
- 閏年中，(2) 月的天數最少，有 (29) 天。
- 機器人大展從 7 月 26 日開始，到 8 月 10 日結束，一共展出了 (16) 天。

7月						8月								
日	一	二	三	四	五	六	日	一	二	三	四	五	六	日
				1	2	3	1	2	3	4	5	6	7	
4	5	6	7	8	9	10	8	9	10	11	12	13	14	
11	12	13	14	15	16	17	15	16	17	18	19	20	21	
18	19	20	21	22	23	24	22	23	24	25	26	27	28	
25	26	27	28	29	30	31	29	30	31					

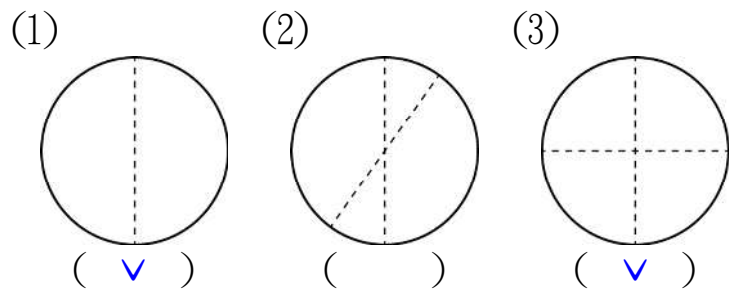
- (1) 總共有 (20) 顆球。  

- (2) 每 4 顆球裝 1 箱，可以裝 (5) 箱。  

- (3) 每 5 顆球裝 1 箱，可以裝 (4) 箱。  


5. 兩條同樣大小的土司，一條等分成 8 片，另一條等分成 6 片，妮妮吃了  $\frac{1}{8}$  條土司，芃芃吃了  $\frac{1}{6}$  條土司，誰吃的土司比較多？ (芃芃)

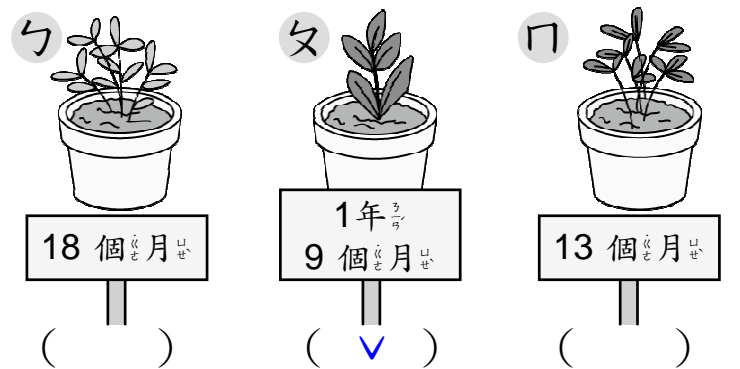


三、勾選題：每格 3 分，共 18 分

1. 下面的圖形中，有等分分的打  $\checkmark$ 。

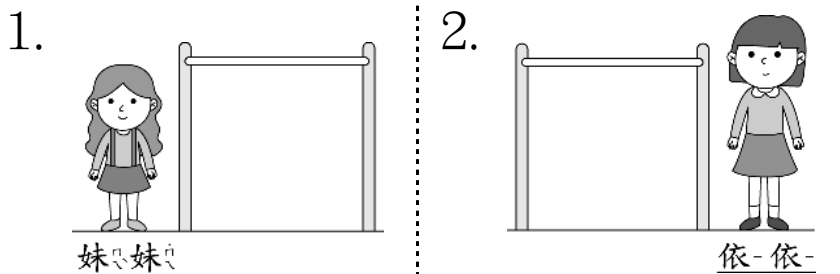


2. 下面是植物種植到這個月時的時間，哪一棵植物種最久？請打  $\checkmark$ 。



四、圈圈看：每題 2 分，共 6 分

▲ 單槓的高度是 1 公尺。

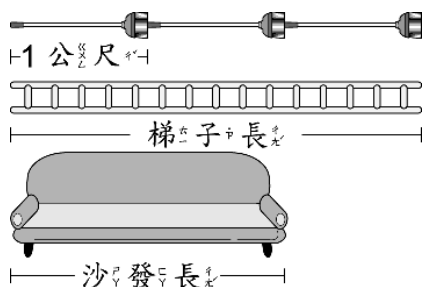


妹妹比單槓 (高, 矮)。 依-依-比單槓 (高, 矮)。

3. 妹妹和依-依-，哪一個比較高？ (妹妹, 依-依-) 比較高。

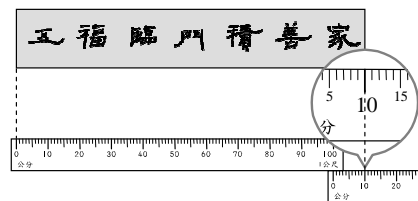
五、看圖填填看：每格1分，共17分

1. 一枝掃把長1公尺，看圖填填看。



- (1) 梯子長是 ( 3 ) 個1公尺，是 ( 3 ) 公尺。  
 (2) 沙發長是 ( 2 ) 個1公尺，是 ( 2 ) 公尺。

2. 有多長？  
 春聯的長度是 ( 1 ) 公尺 ( 10 ) 公分。



分，也可以說 ( 110 ) 公分。

3. (1) 8月有 ( 31 ) 天，也可以說是 ( 4 ) 個星期又 ( 3 ) 天。

日	一	二	三	四	五	六
1	2	3	4	5	6	7
8	9	10	11	12	13	14
15	16	17	18	19	20	21
22	23	24	25	26	27	28
29	30	31				

(2) 陳老師開個人畫展，從8月4日開始展出，8月10日結束，是不是展出1個星期？ ( 是 )

4. 小騰在整理今年全家出去玩的照片，按照拍照的日期，排出先後順序，填入1~4。

①  6月12日	2	②  3月5日	1
③  10月10日	4	④  8月14日	3

5. 是1個長方形，  
 的塗色部分是  
 (  $\frac{1}{7}$  ) 個長方形 (用分數填填看)，讀作 ( 七分之一 )。

六、寫出算式做做看：每題5分，共15分

1. 一支甜筒上有3球冰淇淋，老師買了7支給小朋友，又買了一支只有2球冰淇淋的甜筒給自己，冰淇淋一共有幾球？

$$3 \times 7 = 21$$

$$21 + 2 = 23$$

答：23球

2. 妹妹用紙黏土做造型，瓢蟲造型有8包，蜻蜓造型有5包，每包有10個，全部瓢蟲造型比全部蜻蜓造型多幾個？

$$8 - 5 = 3$$

$$10 \times 3 = 30$$

答：30個

3. 一袋蘋果有兩種顏色，其中紅蘋果有6顆，綠蘋果有3顆，8袋蘋果共有幾顆？

$$6 + 3 = 9$$

$$9 \times 8 = 72$$

答：72顆

七、素養養成題：每題5分，共10分 (把做法用算式記下來)

▲ 今天是園子的生日，園子邀請了好朋友們來參加她的生日派對，她用了長12公尺的彩帶布置派對會場，做了24塊手工餅乾，還買了一些可樂。

1. 園子將彩帶每3公尺剪1段，可以剪成幾段？

$$12 - 3 = 9, 9 - 3 = 6, 6 - 3 = 3$$

$$3 - 3 = 0 \quad \text{或用乘法算式記錄}$$

答：4段

2. 園子將每8塊餅乾裝成1盤，最多可以裝成幾盤？

$$24 - 8 = 16, 16 - 8 = 8, 8 - 8 = 0$$

$$\text{或用乘法算式記錄}$$

答：3盤