


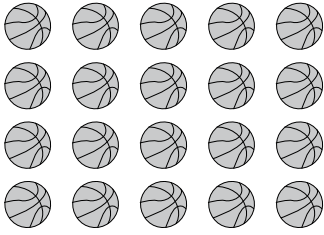
一、選出正確的答：每題 2 分，共 10 分

- () 100 公分等於 () ① 100 公尺 ② 10 公尺 ③ 1 公尺。
- () 5 公尺等於 () ① 5 公分 ② 50 公分 ③ 500 公分。
- () 弟弟今年 6 歲，爸爸的年齡是弟弟年齡的 5 倍再多加 4 歲，爸爸今年是 () ① 34 歲 ② 29 歲 ③ 26 歲。
- () 有 15 個布丁，每 3 個裝一盒，可以裝成幾盒？ () ① 4 盒 ② 5 盒 ③ 6 盒。
- () 下面哪一個敘述能表示  的塗色部分？ () ① $\frac{1}{2}$ 張色紙 ② $\frac{1}{4}$ 張色紙 ③ 1 張色紙。

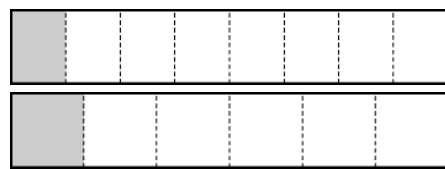
二、填填看：每格 3 分，共 24 分

- 傑克的叔叔長 10 公分，櫃子的長邊和傑克的叔叔一樣長，櫃子的長邊是 () 公分。
- 閏年中，() 月的天數最少，有 () 天。
- 機器人大展從 7 月 26 日開始，到 8 月 10 日結束，一共展出了 () 天。

7月							8月						
日	一	二	三	四	五	六	日	一	二	三	四	五	六
				1	2	3	1	2	3	4	5	6	7
4	5	6	7	8	9	10	8	9	10	11	12	13	14
11	12	13	14	15	16	17	15	16	17	18	19	20	21
18	19	20	21	22	23	24	22	23	24	25	26	27	28
25	26	27	28	29	30	31	29	30	31				

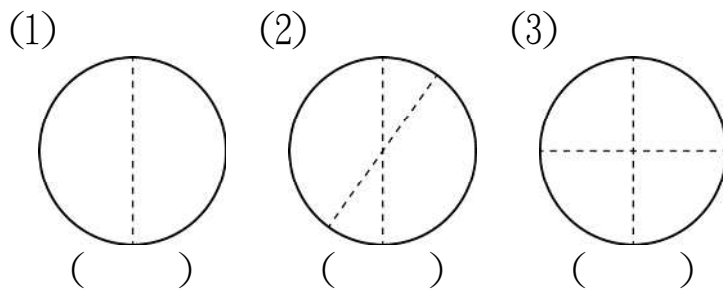
- (1) 總共有 () 顆球。 
- (2) 每 4 顆球裝 1 箱，可以裝 () 箱。
- (3) 每 5 顆球裝 1 箱，可以裝 () 箱。

- 兩條同樣大小的土司，一條等分成 8 片，另一條等分成 6 片，妮妮吃了 $\frac{1}{8}$ 條土司，芃芃吃了 $\frac{1}{6}$ 條土司，誰吃的土司比較多？ ()

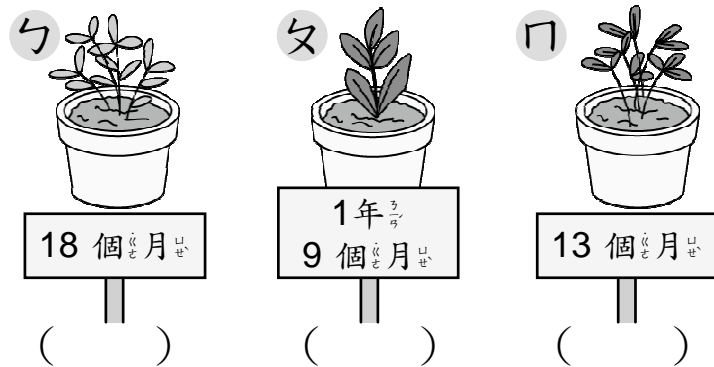


三、勾選題：每格 3 分，共 18 分

- 下面的圖形中，有等分分的打 \checkmark 。

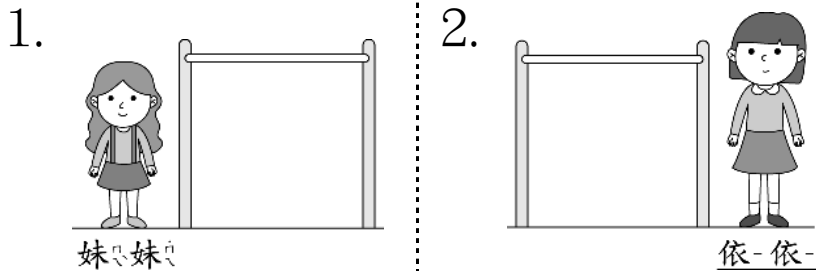


- 下面是植物種植到這個月的時間，哪一棵植物種最久？請打 \checkmark 。



四、圈圈看：每題 2 分，共 6 分

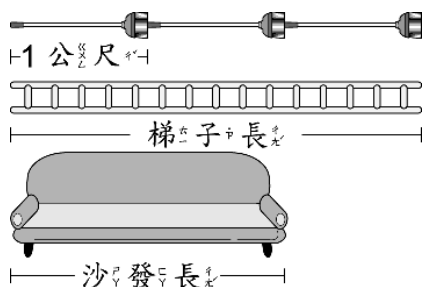
▲ 單槓的高度是 1 公尺。



- 妹妹妹比單槓 () (高, 矮)。 依-依-比單槓 () (高, 矮)。
- 妹妹妹和依-依-，哪一個比較高？ (妹妹妹 , 依-依-) 比較高。

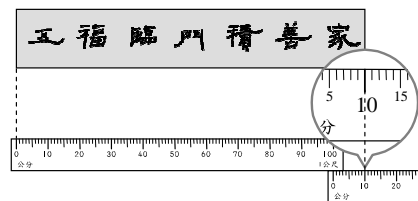
五、看圖填填看：每格1分，共17分

1. 一枝掃把長1公尺，看圖填填看。



- (1) 梯子的長是()個1公尺，是()公尺。
 (2) 沙發長是()個1公尺，是()公尺。

2. 有多長？
 春聯的長度是()公尺()公分。



分，也可以說()公分。

3. (1) 8月有()天，也可以說是()個星期又()天。

8月						
日	一	二	三	四	五	六
1	2	3	4	5	6	7
8	9	10	11	12	13	14
15	16	17	18	19	20	21
22	23	24	25	26	27	28
29	30	31				

(2) 陳老師開個人畫展，從8月4日開始展出，8月10日結束，是不是展出1個星期？()

4. 小騰在整理今年全家出去玩的照片，按照拍照的日期，排出先後順序，填入1~4。

① 6月12日	② 3月5日
③ 10月10日	④ 8月14日

5. 是1個長方形，
 的塗色部分是()個長方形(用分數填填看)，讀作()。

六、寫出算式做做看：每題5分，共15分

1. 一支甜筒上有3球冰淇淋，老師買了7支給小朋友，又買了一支只有2球冰淇淋的甜筒給自己，冰淇淋一共有幾球？

2. 妹妹用紙黏土做造型，瓢蟲造型有8包，蜻蜓造型有5包，每包有10個，全部瓢蟲造型比全部蜻蜓造型多幾個？

3. 一袋蘋果有兩種顏色，其中紅蘋果有6顆，綠蘋果有3顆，8袋蘋果共有幾顆？

七、素養養成題：每題5分，共10分(把做法用算式記下來)

▲ 今天是園子的生日，園子邀請了好朋友們來參加她的生日派對，她用了長12公尺的彩帶布置派對會場，做了24塊手工餅乾，還買了一些可樂。

1. 園子將彩帶每3公尺剪1段，可以剪成幾段？

2. 園子將每8塊餅乾裝成1盤，最多可以裝成幾盤？