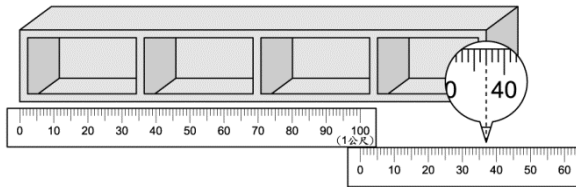


一、填填看看：每格 2 分，共 24 分

- 300 公分 = (3) 公尺
- 游泳池的深度約 1 公尺 80 公分，也可以說是 (180) 公分。
- 公車的車身高度大約是 425 公分，也可以說是 (4) 公尺 (25) 公分。
- 櫃子的長度是 (1) 公尺 (37) 公分。

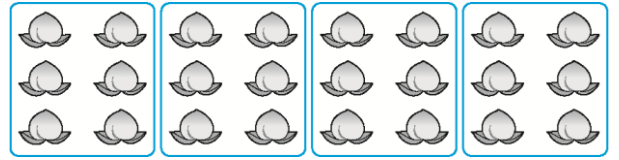


- 貓熊寶寶出生已經 15 個月，也可以說是 (1) 年又 (3) 個月。
- 奶奶買一部電腦，電腦的保固期限是 1 年，也可以說是 (12) 個月。
- 把彩帶對摺 2 次後打開，其中的一份是 ($\frac{1}{4}$) 條彩帶。
- $\frac{1}{6}$ 張報紙是指 1 張報紙等分成 (6) 份，其中的一份 (1) 份。

二、做做看看：每答 3 分，共 9 分

- 堆沙堡時，妮妮 堆得比 小石 高，小石 堆得比 柚子 高。妮妮 和 柚子，誰堆得比較高？圈圈看。
 (妮妮 ， 柚子)

- 有 24 個水蜜桃，每 6 個裝 1 盒，可以裝成幾盒？先圈圈看再回答問題。



(圖法僅供參考)

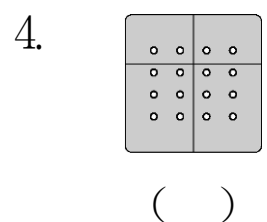
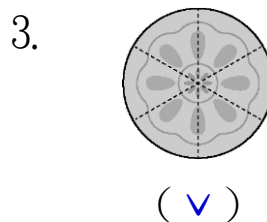
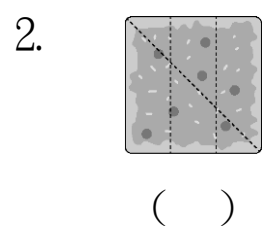
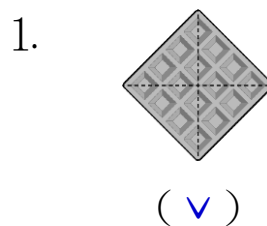
答：(4) 盒

- 看看月曆回答問題：每格 3 分，共 18 分

| 10月 | | | | | | | 11月 | | | | | | | |
|-----|----|----|----|----|----|----|-----|----|----|----|----|----|----|---|
| 日 | 一 | 二 | 三 | 四 | 五 | 六 | 日 | 一 | 二 | 三 | 四 | 五 | 六 | |
| | | | | | 1 | 2 | | | 1 | 2 | 3 | 4 | 5 | 6 |
| 3 | 4 | 5 | 6 | 7 | 8 | 9 | 7 | 8 | 9 | 10 | 11 | 12 | 13 | |
| 10 | 11 | 12 | 13 | 14 | 15 | 16 | 14 | 15 | 16 | 17 | 18 | 19 | 20 | |
| 17 | 18 | 19 | 20 | 21 | 22 | 23 | 21 | 22 | 23 | 24 | 25 | 26 | 27 | |
| 24 | 25 | 26 | 27 | 28 | 29 | 30 | 28 | 29 | 30 | | | | | |
| 31 | | | | | | | | | | | | | | |



- 慶祝國慶日系列活動從 10 月 7 日開始，到 10 月 11 日結束，共有 (5) 天。
- 10 月有 (31) 天，是 (4) 個星期又 (3) 天。
- 哥哥環島旅行 10 天，在 11 月 3 日結束。他是在 (10) 月 (25) 日出發。


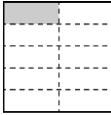
- 有等分分的打勾：每題 2 分，共 8 分


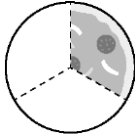


五、塗色各部分是多多少少？

用分數填看：每題3分，共9分

1. 1條緞帶  $\frac{1}{2}$ 條緞帶 

2. 1張色紙  $\frac{1}{10}$ 張色紙 

3. 1個披薩  $\frac{1}{3}$ 個披薩 

六、寫出算式做看：每題4分，共32分 (做法僅供參考)

1. 一枝冰棒12元，特價每枝便宜3元，爸爸買了6枝，共要付幾元？
先算： $12 - 3 = 9$
再算： $9 \times 6 = 54$

答：(54) 元

2. 姐姐烤了一些餅乾，每6片裝成一袋，裝了4袋後還剩下2片，姐姐共烤了幾片餅乾？
先算： $6 \times 4 = 24$
再算： $24 + 2 = 26$

答：(26) 片

3. 一盒煎餃有8個，促銷期間，買一盒再送2個。爺爺買了4盒，共有幾個煎餃？
先算： $8 + 2 = 10$
再算： $10 \times 4 = 40$

答：(40) 個

4. 一包起司有8片，媽媽買了3包，烤披薩用了15片後，還剩下幾片起司？

先算： $8 \times 3 = 24$

再算： $24 - 15 = 9$

答：(9) 片

5. 有20頂帽子，每5頂疊成一堆，可以疊幾堆？

$20 - 5 = 15$ 或 $5 \times 4 = 20$

$15 - 5 = 10$

$10 - 5 = 5$

$5 - 5 = 0$

答：(4) 堆

6. 有24個三明治平分到8個盤子裡，每個盤子裡有幾個三明治？

$24 - 8 = 16$ 或 $3 \times 8 = 24$

$16 - 8 = 8$

$8 - 8 = 0$

答：(3) 個

7. 有36位小朋友平分成9組比賽，每組有幾位小朋友？

$36 - 9 = 27$ 或 $4 \times 9 = 36$

$27 - 9 = 18$

$18 - 9 = 9$

$9 - 9 = 0$

答：(4) 位

8. 有30個人要搭乘摩天輪，每個車廂可以坐10個人，共要幾個車廂？

$30 - 10 = 20$ 或 $10 \times 3 = 30$

$20 - 10 = 10$

$10 - 10 = 0$

答：(3) 個