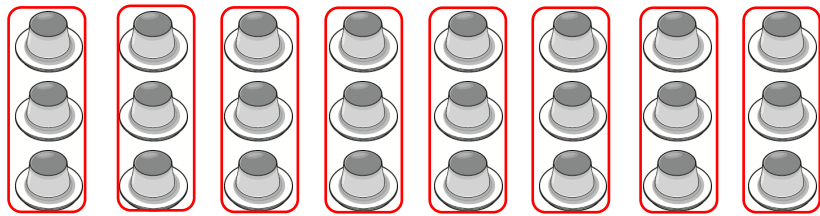
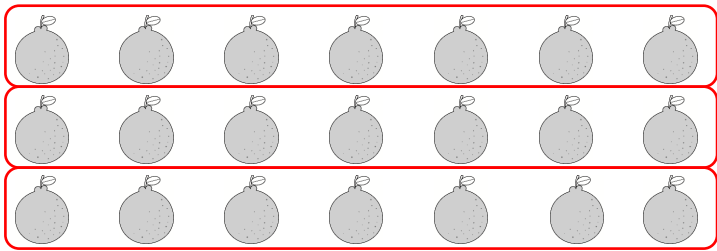


一 圈圈看，填填看。(每題8分，共24分)


1. 有 24 個布丁，每 3 個裝成一盒，可以裝成 (8) 盒。(圈法僅供參考)



2. 有 21 顆橘子，每 7 顆裝成一袋，可以裝成 (3) 袋。(圈法僅供參考)



3. 有 32 個人，每 8 個人分成 1 組，可以分成 (4) 組。(圈法僅供參考)



二 正確的打✓。(每小題4分，共28分)

1. 把 6 顆球分給 3 個小朋友，下面哪一個是平分？



2. 可以剛好分完，且分到的數量一樣多的在 () 裡打✓。

- (1) (✓) 16 顆草莓平分給 4 個人。
- (2) () 18 顆皮球平分給 7 個人。
- (3) (✓) 20 顆水梨平分給 5 個人。

3. 桌上有 36 個果凍。分給幾個人可以剛好分完，且分到的數量一樣多？

- (1) () 分給 5 個人。
- (2) (✓) 分給 6 個人。

三 填填看。(每格4分，共16分)

1. 桌上有 40 顆巧克力。

(1) 每個人分 4 顆，可以分給 (10) 個人。

(2) 每個人分 5 顆，可以分給 (8) 個人。

2. 桌上有 12 顆荔枝。

(1) 平分給 4 個人，每個人可以分到 (3) 顆荔枝。

(2) 平分給 6 個人，每個人可以分到 (2) 顆荔枝。

四 把做法用算式記下來，並算出答案。(每題8分，共32分) (做法僅供參考)

1. 妮妮把 30 張色紙分裝，每 5 張裝成一包，可以分成幾包？

$30 - 5 = 25$ $10 - 5 = 5$ 或 $5 \times 6 = 30$

$25 - 5 = 20$ $5 - 5 = 0$

$20 - 5 = 15$

$15 - 5 = 10$

答： 6 包

2. 阿姨有 27 顆番茄要分給小朋友，每 9 顆分給 1 個人，可以分給幾個？

$27 - 9 = 18$ 或 $9 \times 3 = 27$

$18 - 9 = 9$

$9 - 9 = 0$

答： 3 個人

3. 將 48 枝筆平分給 8 個人，剛好分完，每個人分到幾枝筆？

$48 - 8 = 40$ $16 - 8 = 8$ 或 $6 \times 8 = 48$

$40 - 8 = 32$ $8 - 8 = 0$

$32 - 8 = 24$

$24 - 8 = 16$

答： 6 枝

4. 桌上有 35 顆糖果，平分裝在 7 個盒子裡，每個盒子有幾顆糖果？

$35 - 7 = 28$ $7 - 7 = 0$ 或 $5 \times 7 = 35$

$28 - 7 = 21$

$21 - 7 = 14$

$14 - 7 = 7$

答： 5 顆